

แบบฝึกเสริมทักษะชุดที่ 1



ลักษณะและค่าของเงินเหรียญชนิดต่าง ๆ



1. เมื่อกำหนดเงินเหรียญที่มีค่าต่าง ๆ ให้นักเรียนสามารถจำแนกลักษณะของเงินเหรียญชนิดต่าง ๆ ได้
2. เมื่อกำหนดเงินเหรียญที่มีค่าต่าง ๆ ให้ นักเรียนสามารถบอกค่าของเงินเหรียญชนิดนั้นๆ ได้



1. เงินเหรียญที่มีค่าต่างกันจะมีลักษณะต่างกัน
2. ค่าของเงินเหรียญดูได้จากตัวเลขบนเงินเหรียญนั้น ๆ





แบบฝึกเสริมทักษะคณิตศาสตร์ ชุดที่ 1 เรื่อง
ลักษณะและค่าของเงินเหรียญชนิดต่าง ๆ ใช้ประกอบการ
เรียนการสอนกลุ่มสาระการเรียนรู้คณิตศาสตร์ หน่วยที่ 9
เงินและการบันทึกรายรับรายจ่าย ชั้นประถมศึกษาปีที่ 3
ซึ่งจะทำให้ผู้เรียนรู้จักลักษณะและค่าของเงินเหรียญชนิด
ต่างๆ และสามารถนำไปใช้ในชีวิตประจำวันได้

ผู้เขียนหวังเป็นอย่างยิ่งว่าแบบฝึกเสริมทักษะ
คณิตศาสตร์เล่มนี้คงเป็นประโยชน์ต่อผู้เรียนและผู้สอนเป็น
อย่างดี



วิรัชศักดิ์ สัตตคม



แบบฝึกเสริมทักษะคณิตศาสตร์ เรื่อง เงินและการ
บันทึกรายรับรายจ่าย ชุดที่ 1 เรื่อง ลักษณะและค่าของ
เงินเหรียญชนิดต่างๆ ประกอบไปด้วยชุดฝึกทักษะจำนวน
3 ชุดซึ่งผู้จัดทำได้ศึกษาวิเคราะห์เนื้อหา จากบทเรียนใน
หนังสือเรียนกลุ่มสาระการเรียนรู้พื้นฐานคณิตศาสตร์ ชั้น
ประถมศึกษาปีที่ 3 ตามหลักสูตรแกนกลางการศึกษาขั้น
พื้นฐาน พุทธศักราช 2551 ซึ่งผู้จัดทำศึกษา ค้นคว้า
รวบรวม สรุปเป็นแบบฝึกทักษะคณิตศาสตร์เพื่อให้ผู้เรียนมี
ทักษะในในเรื่อง เงิน ได้ถูกต้องต่อไป

นายวิรัชศักดิ์ รัตคม



แบบทดสอบก่อนเรียน



เลือก X ทับตัวอักษร ก ข ค หรือ ง หน้าข้อที่ถูกต้อง

1.



จากรูปเหรียญมีค่าเท่าไร

ก. 10 บาท ข. 5 บาท ค. 2 บาท ง. 1 บาท

2.



จากรูปเหรียญมีค่าเท่าไร

ก. 10 บาท ข. 5 บาท ค. 2 บาท ง. 1 บาท

3. ข้อใดคือเหรียญห้าสิบบatangค์

ก.



ข.



ค.



ง.



4. ข้อใดมีค่าน้อยที่สุด

ก.



ข.



ค.



ง.



5.



จากรูปมีค่ารวมกันเท่าไร

ก. 23 บาท 50 สตางค์

ข. 17 บาท 25 สตางค์

ค. 15 บาท

ง. 14 บาท 50 สตางค์

6. ข้อใดมีค่ามากที่สุด



7. แม่ให้เงินเหรียญห้าบาท 2 เหรียญ พี่ให้เงินเหรียญบาท 5 เหรียญ รวมเป็นเงินกี่บาท

ก. 5 บาท ข. 10 บาท ค. 15 บาท ง. 20 บาท

8.  เท่ากับจำนวนเงินในข้อใด



9.  จากรูปรวมเป็นเงินเท่าไร

ก. 1 บาท ข. 2 บาท ค. 3 บาท ง. 4 บาท

10. น้องเพลงมีเงิน  ให้น้องเวียร์ไป  น้องเพลงเหลือเงินเท่าไร

ก. 10 บาท ข. 25 บาท ค. 20 บาท ง. 15 บาท



เรื่อง ลักษณะและค่าของเงินเหรียญชนิดต่าง ๆ

เงินเหรียญที่มีค่าต่างกันจะมีลักษณะต่างกัน และค่าของเงินเหรียญดูได้จากเงินเหรียญนั้น ๆ เหรียญที่ใช้ในประเทศไทยมีชนิดต่างๆ ดังนี้



ด้านหน้า ด้านหลัง

เหรียญยี่สิบห้าสตางค์

1 เหรียญ มีค่า 25 สตางค์



ด้านหน้า ด้านหลัง

เหรียญห้าสิบสตางค์

1 เหรียญ มีค่า 50 สตางค์



ด้านหน้า ด้านหลัง

เหรียญบาท


1 เหรียญ มีค่า 1 บาท
หรือ 100 สตางค์



ด้านหน้า ด้านหลัง

เหรียญสองบาท

1 เหรียญ มีค่า 2 บาท
หรือ 200 สตางค์



ด้านหน้า ด้านหลัง

เหรียญห้าบาท

1 เหรียญ มีค่า 5 บาท



ด้านหน้า ด้านหลัง

เหรียญสิบบาท

1 เหรียญ มีค่า 10 บาท



แบบฝึกหัดเสริมทักษะชุดที่ 1

ให้นักเรียนเขียนชนิดของของเหรียญและค่าของเหรียญ

1.1



1.2



1.3



1.4



1.5







1.6



แบบฝึกหัดเสริมทักษะชุดที่ 2

ให้นักเรียนบอกค่ารวมของเหรียญชนิดต่างๆ



แบบฝึกหัดเสริมทักษะชุดที่ 3

เติมอักษรเพื่อจับคู่จำนวนเงิน



3.1



A. 15 บาท 50 สตางค์



3.2



B. 7 บาท 50 สตางค์



3.3



C. 20 บาท 75 สตางค์



3.4



D. 22 บาท 50 สตางค์



3.5




D. 11 บาท 50 สตางค์

แบบทดสอบหลังเรียน


ตั้งใจทำนะเด็กๆ



เลือก X ทับตัวอักษร ก ข ค หรือ ง หน้าข้อที่ถูกต้อง

1.  จากรูปเหรียญมีค่าเท่าไร

ก. 10 บาท ข. 5 บาท ค. 2 บาท ง. 1 บาท

2.  จากรูปเหรียญมีค่าเท่าไร

ก. 10 บาท ข. 5 บาท ค. 2 บาท ง. 1 บาท

3. ข้อใดคือเหรียญห้าสิบบatangค์



4. ข้อใดมีค่าน้อยที่สุด



5.     จากรูปมีค่ารวมกันเท่าไร

ค. 23 บาท 50 สตางค์

ข. 17 บาท 25 สตางค์

ง. 15 บาท

ง. 14 บาท 50 สตางค์

6. ข้อใดมีค่ามากที่สุด



7. แม่ให้เงินเหรียญห้าบาท 2 เหรียญ พี่ให้เงินเหรียญบาท 5 เหรียญ รวมเป็นเงินกี่บาท

ก. 5 บาท ข. 10 บาท ค. 15 บาท ง. 20 บาท

8.   เท่ากับจำนวนเงินในข้อใด



9.     จากรูปรวมเป็นเงินกี่บาท

ก. 1 บาท ข. 2 บาท ค. 3 บาท ง. 4 บาท


10. น้องเพลงมีเงิน   ให้น้องไปเวียร์  น้องเพลงเหลือเงินเท่าไร

ก. 10 บาท ข. 25 บาท ค. 20 บาท ง. 15 บาท



เฉลยแบบทดสอบก่อนเรียน

เลือก X ทับตัวอักษร ก ข ค หรือ ง หน้าข้อที่ถูกต้อง

1.  จากรูปเหรียญมีค่าเท่าไร
ก. 10 บาท ข. 5 บาท ค. 2 บาท ง. 1 บาท

2.  จากรูปเหรียญมีค่าเท่าไร
ก. 10 บาท ข. 5 บาท ค. 2 บาท ง. 1 บาท

3. ข้อใดคือเหรียญห้าสิบบatangค์

- ก.  ข.  ค.  ง. 

4. ข้อใดมีค่าน้อยที่สุด

- ก.  ข.  ค.  ง. 

5.     จากรูปมีค่ารวมกันเท่าไร

- ก. 23 บาท 50 สตางค์ ข. 17 บาท 25 สตางค์
ค. 15 บาท ง. 14 บาท 50 สตางค์

6. ข้อใดมีค่ามากที่สุด



7. แม่ให้เงินเหรียญห้าบาท 2 เหรียญ พี่ให้เงินเหรียญบาท 5 เหรียญ รวมเป็นเงินกี่บาท

ก. 5 บาท ข. 10 บาท ค. 15 บาท ง. 20 บาท

8.  เท่ากับจำนวนเงินในข้อใด



9.  จากรูปรวมเป็นเงินเท่าไร

ก. 1 บาท ข. 2 บาท ค. 3 บาท ง. 4 บาท

10. น้องเพลงมีเงิน  ให้น้องเวียร์ไป  น้องเพลงเหลือเงินเท่าไร

ก. 10 บาท ข. 25 บาท ค. 20 บาท ง. 15 บาท



เฉลยแบบฝึกหัดเสริมทักษะชุดที่ 1

1. ให้นักเรียนเขียนชนิดของเหรียญและค่าของเหรียญ



เหรียญบาท มีค่า 1 บาท



เหรียญห้าสิบสตางค์ มีค่า 50 สตางค์



เหรียญสิบบาท มีค่า 10 บาท



เหรียญยี่สิบห้าสตางค์ มีค่า 25 สตางค์




เหรียญห้าบาท มีค่า 5 บาท




เหรียญสองบาท มีค่า 2 บาท



เฉลยแบบฝึกหัดเสริมทักษะชุดที่ 2




ให้นักเรียนบอกค่ารวมของเหรียญชนิดต่างๆ



5 บาท



10 บาท




6 บาท



12 บาท




20 บาท



31 บาท 50 สตางค์



2 บาท 75 สตางค์



16 บาท 75 สตางค์




เฉลยแบบฝึกหัดเสริมทักษะชุดที่ 3

เติมอักษรเพื่อจับคู่จำนวนเงิน

B

3.1



D

3.2



E

3.3



C

3.4



A

3.5



A. 15 บาท 50 สตางค์



B. 7 บาท 50 สตางค์



C. 20 บาท 75 สตางค์



D. 22 บาท 90 สตางค์




E. 11 บาท 50 สตางค์



เฉลยแบบทดสอบหลังเรียน

เลือก X ทับตัวอักษร ก ข ค หรือ ง หน้าข้อที่ถูกต้อง





1.  จากรูปเหรียญมีค่าเท่าไร
ก. 10 บาท ข. 5 บาท ค. 2 บาท ง. 1 บาท

2.  จากรูปเหรียญมีค่าเท่าไร
ก. 10 บาท ข. 5 บาท ค. 2 บาท ง. 1 บาท

3. ข้อใดคือเหรียญห้าสิบบatangค์

- ก.  ข.  ค.  ง. 


4. ข้อใดมีค่าน้อยที่สุด

- ก.  ข.  ค.  ง. 

5.     จากรูปมีค่ารวมกันเท่าไร

- ข. 23 บาท 50 สตางค์ ข. 17 บาท 25 สตางค์
ค. 15 บาท ง. 14 บาท 50 สตางค์

6. ข้อใดมีค่ามากที่สุด



7. แม่ให้เงินเหรียญห้าบาท 2 เหรียญ พี่ให้เงินเหรียญบาท 5 เหรียญ รวมเป็นเงินกี่บาท

ก. 5 บาท ข. 10 บาท ค. 15 บาท ง. 20 บาท

8.   เท่ากับจำนวนเงินในข้อใด



9.     จากรูปรวมเป็นเงินเท่าไร

ก. 1 บาท ข. 2 บาท ค. 3 บาท ง. 4 บาท

10. น้องเพลงมีเงิน   ให้น้องเวียร์ไป  น้องเพลงเหลือเงินเท่าไร

ก. 10 บาท ข. 25 บาท ค. 20 บาท ง. 15 บาท